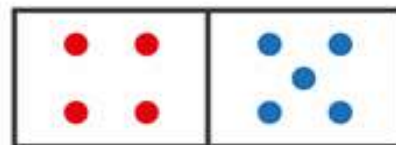


JUGANDO CON EL DOMINÓ

Cuenta y escribe el número debajo de los puntos del dominó. Junta todos los puntos del dominó, traza los palotes y escribe el número que corresponde. (guiarse del modelo del primer ejercicio)



$$\boxed{2} + \boxed{1} = \boxed{3}$$



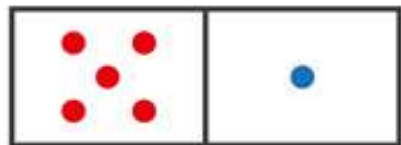
$$\boxed{} + \boxed{} = \boxed{}$$



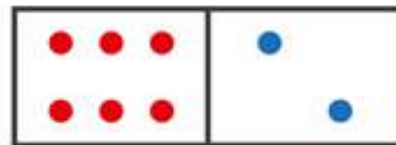
$$\boxed{} + \boxed{} = \boxed{}$$



$$\boxed{} + \boxed{} = \boxed{}$$



$$\boxed{} + \boxed{} = \boxed{}$$



$$\boxed{} + \boxed{} = \boxed{}$$